

CAIETUL ELEVULUI

CLASA
A VII-A

CORINT
BOOKS



Octavian Mândruț

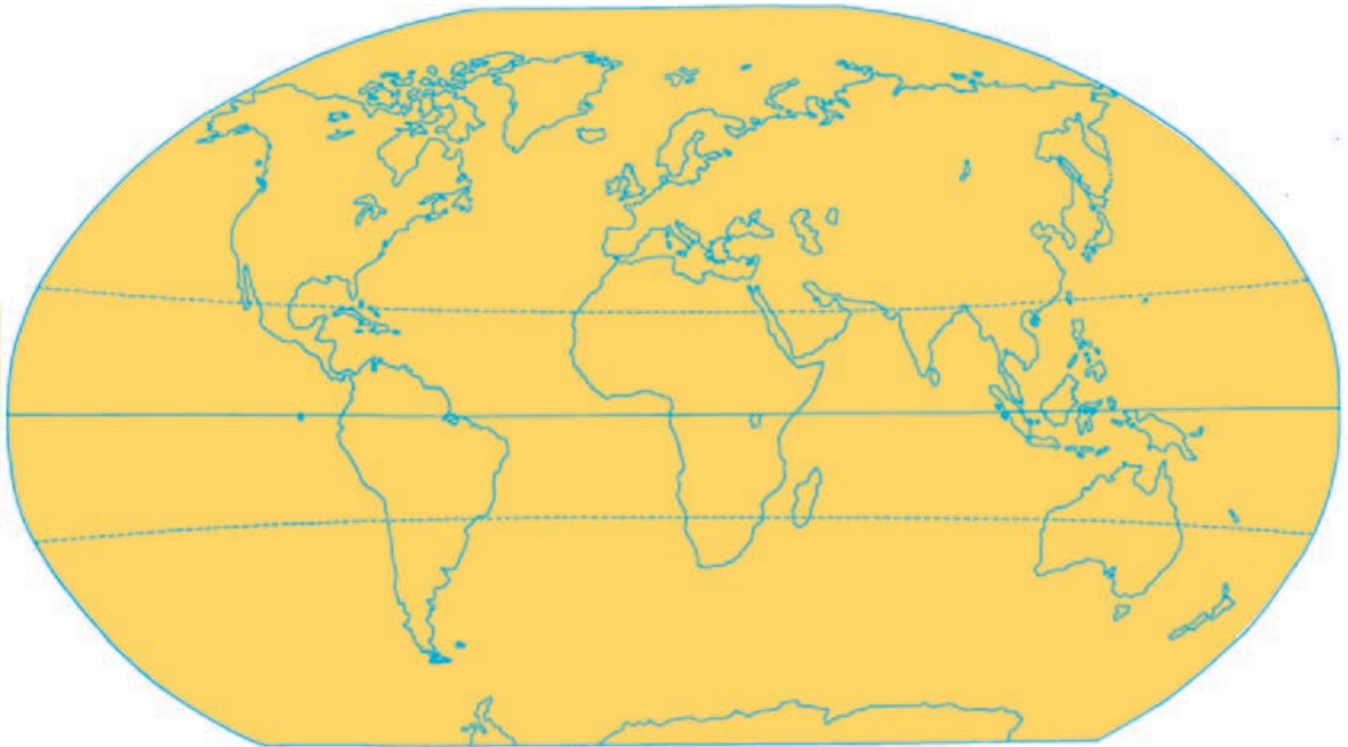
GEOGRAFIA CONTINENTELOR EXTRAEUROPENE

CUPRINS

| | | | |
|---|----|--|----|
| CUVÂNT-ÎNAINTE | 3 | 1.3. POPULAȚIA ȘI AȘEZĂRILE OMENEȘTI | 52 |
| GEOGRAFIA CONTINENTELOR EXTRAEUROPENE. CONȚINUTURI OBLIGATORII (EXTRASE DIN PROGRAMA ȘCOLARĂ) | 5 | 1.4. RESURSELE NATURALE ȘI ECONOMIA | 52 |
| CONTINENTELE – PRIVIRE DE ÎNTREG | 7 | 1.5. HARTA POLITICĂ | 53 |
| CAPITOLUL I – ASIA | 11 | 1.6. REPUBLICA AFRICA DE SUD ȘI EGIPT (PRIVIRE COMPARATIVĂ). | 55 |
| 1. ASIA – CARACTERISTICI GENERALE. | 11 | EVALUARE SECVENȚIALĂ (AFRICA) | 56 |
| 1.1. POZIȚIA GEOGRAFICĂ, LIMITELE, ÎNTINDEREA | 11 | CAPITOLUL III – AMERICA | 57 |
| 1.2. RELIEFUL (TREPTE ȘI UNITĂȚI DE RELIEF) | 13 | 1. AMERICA – PREZENTARE GEOGRAFICĂ GENERALĂ. | 57 |
| 1.3. CLIMA | 15 | 1.1. POZIȚIA GEOGRAFICĂ, LIMITELE, ÎNTINDEREA | 57 |
| 1.4. HIDROGRAFIA | 16 | 1.2. CARACTERISTICILE FIZICO-GEOGRAFICE | 57 |
| 1.5. VEGETAȚIA, FAUNA ȘI SOLURILE | 17 | A. RELIEFUL | 57 |
| 1.6. ACTIVITATE INDEPENDENTĂ. | 17 | B. CLIMA | 59 |
| 1.7. POPULAȚIA | 18 | C. HIDROGRAFIA | 59 |
| 1.8. ORAȘELE | 19 | D. VEGETAȚIA ȘI FAUNA | 60 |
| 1.9. RESURSELE NATURALE ȘI ECONOMIA | 20 | E. REGIUNI NATURALE | 60 |
| EVALUARE | 21 | 1.3. POPULAȚIA ȘI AȘEZĂRILE OMENEȘTI | 61 |
| 2. ASIA – REGIUNI ȘI ȚĂRI | 23 | 1.4. RESURSELE NATURALE ȘI ECONOMIA | 62 |
| 2.1. ASIA DE VEST ȘI DE SUD-VEST – SPECIFICUL GEOGRAFIC | 23 | 2. AMERICA – REGIUNI ȘI ȚĂRI | 63 |
| 2.1.1. Israel. | 25 | 2.1. AMERICA DE NORD ȘI CENTRALĂ – SPECIFICUL GEOGRAFIC | 63 |
| 2.1.2. Turcia | 27 | 2.1.1. Statele Unite ale Americii | 65 |
| 2.1.3. Alte state | 29 | A. Geografie fizică. | 65 |
| 2.1.4. Activitate independentă | 30 | B. Populație și așezări | 66 |
| 2.2. ASIA DE SUD – SPECIFICUL GEOGRAFIC | 31 | C. Economie | 67 |
| 2.2.1. India | 33 | 2.1.2. Canada | 69 |
| 2.2.2. Activitate independentă | 35 | 2.1.3. Mexic | 70 |
| 2.3. ASIA DE EST ȘI DE SUD-EST – SPECIFICUL GEOGRAFIC | 36 | 2.2. AMERICA DE SUD – SPECIFICUL GEOGRAFIC | 71 |
| 2.3.1. Japonia | 38 | 2.2.1. Brazilia | 73 |
| 2.3.2. China | 40 | 2.2.2. Argentina, Peru, Columbia (Activitate independentă). | 74 |
| A. Geografie fizică. | 40 | EVALUARE SECVENȚIALĂ (AMERICA) | 75 |
| B. Geografie umană. | 42 | CAPITOLUL IV – AUSTRALIA, OCEANIA ȘI ANTARCTICA | 77 |
| 2.3.3. Alte state | 44 | 1. AUSTRALIA – CARACTERISTICI GEOGRAFICE | 77 |
| 2.3.4. Activitate independentă | 46 | 2. OCEANIA | 78 |
| EVALUARE SUMATIVĂ (SEM. I). ASIA – CARACTERISTICI GENERALE, REGIONALE ȘI ȚĂRI. | 47 | LUCRARE INDEPENDENTĂ. NOUA ZEELANDĂ ȘI ROMÂNIA – O COMPARAȚIE GEOGRAFICĂ | 79 |
| CAPITOLUL II – AFRICA | 49 | 3. ANTARCTICA | 80 |
| 1. AFRICA – PREZENTARE GEOGRAFICĂ GENERALĂ. | 49 | EVALUARE SUMATIVĂ (SEM. II). AMERICA, AUSTRALIA, OCEANIA, ANTARCTICA | 81 |
| 1.1. POZIȚIA GEOGRAFICĂ, LIMITELE, ÎNTINDEREA | 49 | CONTINENTELE – RECAPITULARE ȘI SINTEZĂ. ACTIVITATE INDEPENDENTĂ | 84 |
| 1.2. CARACTERISTICI FIZICO-GEOGRAFICE | | EVALUARE FINALĂ – GEOGRAFIA CONTINENTELOR. | 86 |
| A. RELIEFUL | 50 | (EUROPA ȘI CONTINENTELE EXTRAEUROPENE) | 86 |
| B. CLIMA, HIDROGRAFIA, VEGETAȚIA ȘI FAUNA. | 51 | | |

1. ASIA – CARACTERISTICI GENERALE

1.1. POZIȚIA GEOGRAFICĂ, LIMITELE, ÎNTINDEREA



Urmăriți planiglobul de mai sus.

● Localizați și notați pe acesta numele continentului Asia.

● Notați ce continent sau ocean se află față de Asia:

în nord: _____; în sud: _____;

în vest: _____; în est: _____.

● Precizați spre ce punct cardinal este situat continentul Asia față de:

Oceanul Pacific: _____; Africa: _____;

Oceanul Indian: _____; Europa: _____.

● Comentați poziția Asiei față de America de Sud:

● Comentați poziția Australiei în raport cu Asia:

Urmăriți harta politică a Asiei (din atlas sau din manual) și notați în ce parte a continentului se află:

Federația Rusă: _____; China: _____;

India: _____; Indonezia: _____;

Turcia: _____; Japonia: _____.

Acum notați, față de China, în ce parte se află:

India: _____; Japonia: _____;

Mongolia: _____; Turcia: _____.

Notați unde se află față de India:

China: _____; Indonezia: _____;

Federația Rusă: _____; Oceanul Indian: _____.

Urmăriți pe un planiglob meridianul de 100° longitudine estică și notați ce țări întâlniți, succesiv, de la nord la sud:

Urmăriți Tropicul de Nord și notați ce țări întâlniți, succesiv, de la est la vest:

Urmăriți un planiglob (din atlas sau din manual) și completați tabelul de mai jos:

| | Mări | Peninsule | Insule | Golfuri |
|-----------------|------|-----------|--------|---------|
| Oceanul Arctic | | | | |
| Oceanul Indian | | | | |
| Oceanul Pacific | | | | |

Citiți următorul text:

„În partea de sud, prin arhipelagul indonezian (insula Roti), Asia se întinde și la sud de Ecuator; în partea opusă, punctul cel mai îndepărtat îl reprezintă Capul Celeuskin; în partea de est (Capul Dejnev), depășește meridianul de 180° longitudine estică, iar în partea opusă (vest) Asia Mică se termină la Capul Baba; distanțele nord-sud și vest-est sunt de aproximativ 10 000 km (ceea ce reprezintă $\frac{1}{4}$ din lungimea Ecuatorului).”

Pe baza acestui text, precizați:

● dacă Asia este situată în toate cele patru emisfere:

● suprafața pătratului cu latura de 7 000 km:

● raportul dintre suprafața Asiei și a acestui pătrat:

Precizați punctele extreme ale Asiei în:

a) nord: _____;

b) vest: _____;

c) est: _____;

d) sud: _____.

1.2. RELIEFUL (TREPTE ȘI UNITĂȚI DE RELIEF)

Urmăriți harta de mai jos sau o hartă asemănătoare din atlas. Pe aceasta sunt reprezentate trepte și unități de relief.

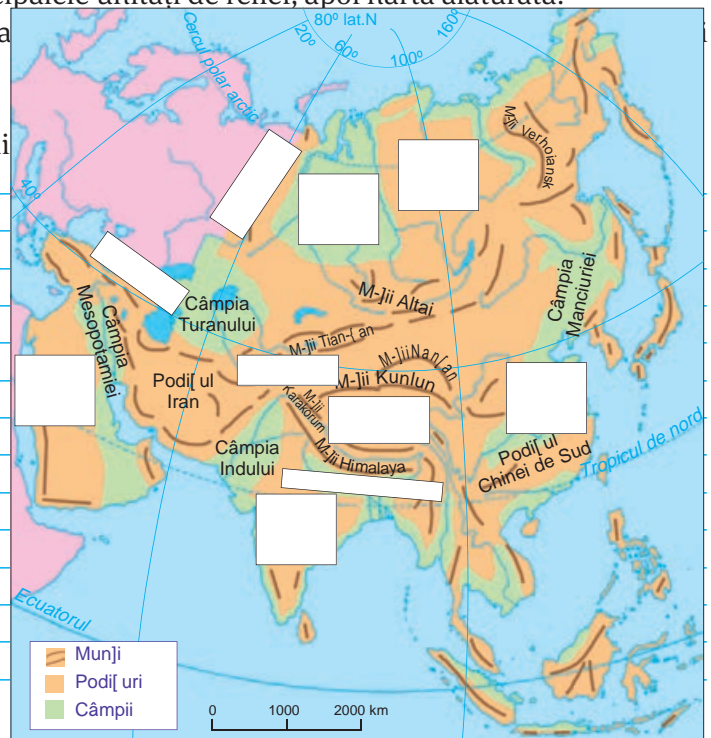
Completați tabelul de mai jos, notând pentru fiecare treaptă de relief acele unități de relief care sunt amplasate în partea centrală a Asiei și în cele patru puncte cardinale (N, S, V, E).

| Trepte de relief | Unități de relief (exemple) | | | | |
|-----------------------------------|-----------------------------|--------|--------|---------|-----------|
| | în nord | în sud | în est | în vest | în centru |
| Câmpii (1–200 m) | | | | | |
| Podișuri joase (200–1 000 m) | | | | | |
| Munți și podișuri (1 000–3 000 m) | | | | | |
| Munți și podișuri înalte | | | | | |

Urmăriți harta din manual sau din atlas cu principalele unități de relief, apoi harta alăturată:

● identificați denumirile care lipsesc și completați tabelul de relief;

● enumerați lanțurile muntoase care fac parte din



Urmăriți harta de la pagina anterioară și precizați în ce parte a continentului predomină fiecare dintre următoarele trepte de relief:

| Altitudini | Treapta de relief | Poziția în continent |
|---------------|-------------------|----------------------|
| 0–200 m | | |
| 200–1 000 m | | |
| 1 000–3 000 m | | |
| Peste 3 000 m | | |

Comentați aceste observații, precizând trei aspecte constatate:

- _____
- _____
- _____

Urmăriți această hartă sau o hartă din atlas și, pe baza acesteia, precizați lanțurile muntoase care au următoarele direcții:

- N–S: _____
- V–E: _____
- NV–SE: _____
- SV–NE: _____

Descrieți, pe scurt, relieful Asiei, utilizând termeni și denumiri, dintre:
 a) termeni: *podis, lanț muntos, munți, altitudine maximă, podis înalt, câmpie;*
 b) denumiri: *Caucaz, Podișul Arabiei, Podișul Pamir, Himalaya, Câmpia Siberiei de Vest, Câmpia Gangelui.*

1.3. CLIMA

Precizați, pe scurt, cinci factori care determină clima Asiei.

- _____
- _____
- _____
- _____
- _____

Realizați un mic comentariu, utilizând hărțile din manual sau din atlas, asupra:

- Temperaturii medii în luna ianuarie: _____

- Temperaturii medii în luna iulie: _____

Utilizați harta din manual sau din atlas și precizați pe scurt repartiția geografică a precipitațiilor medii anuale, astfel:

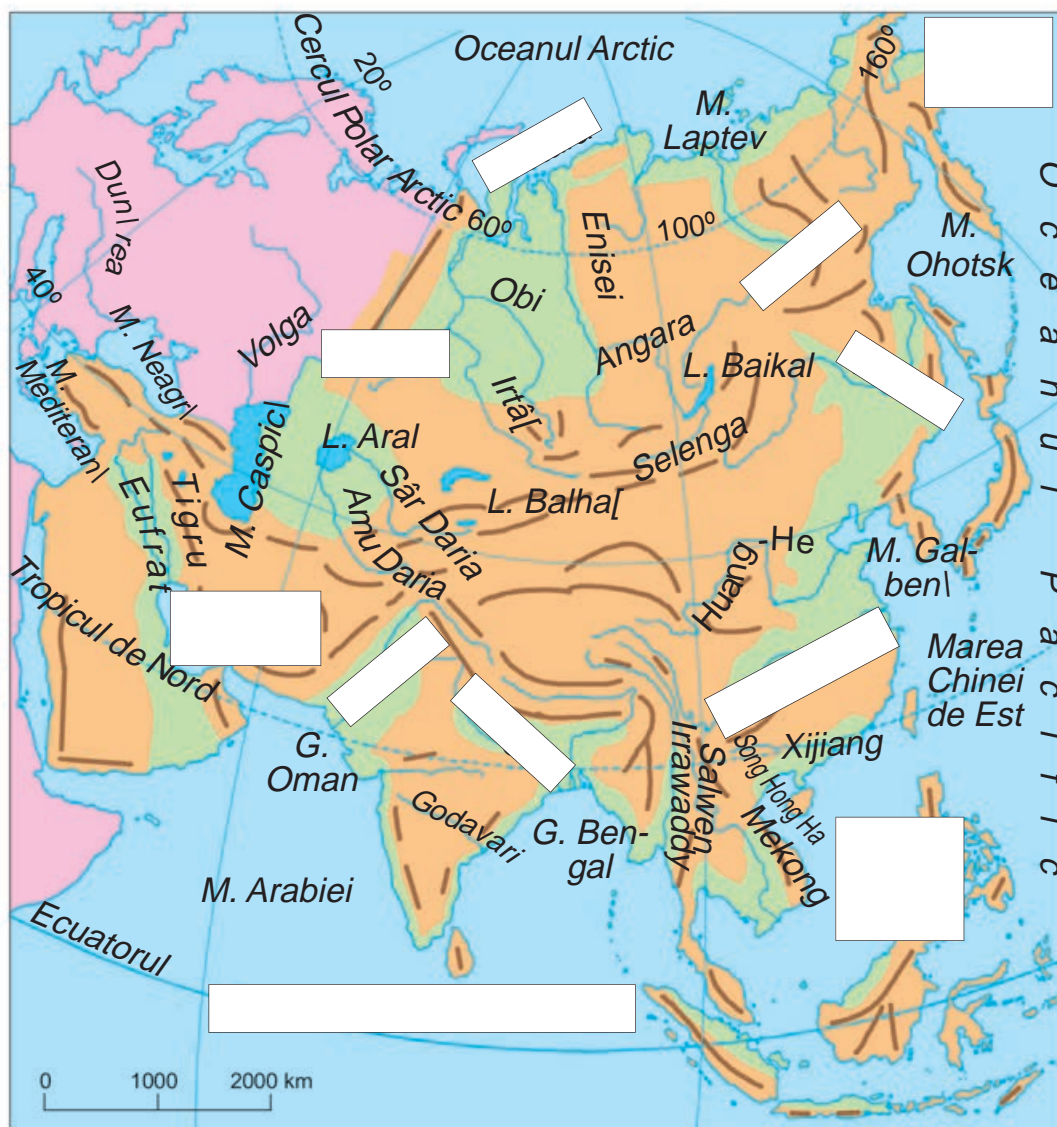
- precipitații peste 2 000 mm/an: _____
- precipitații sub 200 mm/an: _____
- precipitații între 200–500 mm/an: _____

Urmăriți hărțile din manual și din atlas și descrieți pe scurt, completând tabelul de mai jos, un tip de climat, la alegere dintre: climatul deșertic, climatul polar (arctic), climatul musonic, climatul temperat continental.

| Tipul de climat | |
|-----------------------------|--|
| Localizare | |
| Temperatura a) medie anuală | |
| b) în luna ianuarie | |
| c) în luna iulie | |
| Precipitațiile medii anuale | |
| Vânturi predominante | |
| Regiuni caracteristice | |

1.4. HIDROGRAFIA

Urmăriți harta din manual sau din atlas și harta de mai jos, apoi completați denumirile fluviilor, ale mărilor sau ale oceanelor care lipsesc.



Grupați fluviile reprezentate pe hartă pe bazinele oceanice de mai jos:

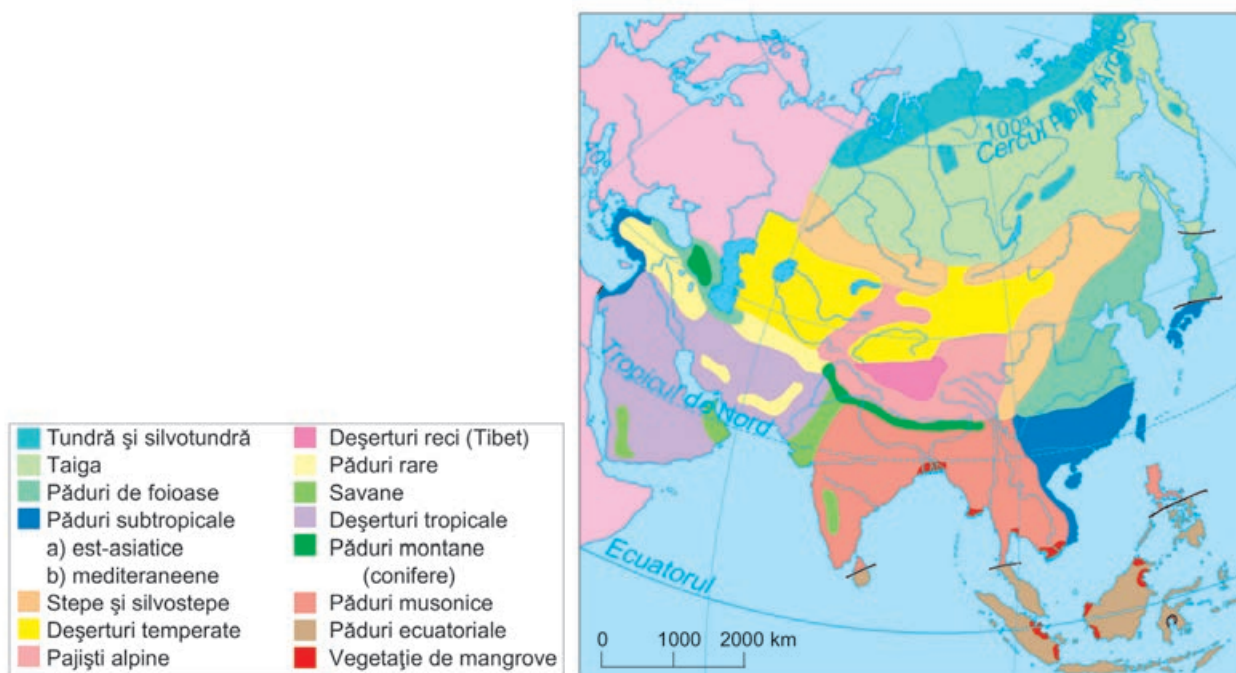
- Oceanul Arctic: _____ ;
- Oceanul Pacific: _____ ;
- Oceanul Indian: _____ .

Precizați, pe scurt, ce constatați: _____

1.5. VEGETAȚIA, FAUNA ȘI SOLURILE

Urmărind harta de mai jos, hărțile din atlas și alte surse de informare, descrieți, pe scurt, trei tipuri de vegetație, la alegere, precizând:

- Tipul de vegetație naturală: _____
- Localizarea: _____
- Plante caracteristice: _____
- Animale specifice: _____
- Soluri reprezentative: _____
- Regiuni caracteristice: _____



1.6. ACTIVITATE INDEPENDENTĂ

a) Alegeți o unitate de relief dintre următoarele: Munții Himalaya, Podișul Tibet, Podișul Siberiei Centrale, Podișul Arabiei, Câmpia Gangelui, Podișul Pamir, Câmpia Chinei de Est, Câmpia Mesopotamiei.

b) Utilizați hărțile de până acum, atlasul, precum și alte surse și notați:

- Numele unității de relief: _____
- Poziția în cadrul Asiei: _____
- Unități de relief învecinate: _____
- Climatul predominant: _____
- Caracteristici ale climei: _____
- Elemente de hidrografie (fluviu, lac, golf) : _____
- Vegetația specifică: _____
- Animale caracteristice: _____
- Alte aspecte specifice (soluri, peisaj): _____

1.7. POPULAȚIA

Completați tabelul de mai jos:

| | | |
|----|-------------------------------|---------------|
| A. | Populația mondială (2017) | 7,3 mld. loc. |
| B. | Populația Asiei (2017) | 4,2 mld. loc. |
| C. | Raportul B/A (cu aproximație) | |

Comentați, pe scurt, acest raport: _____

Urmăriți harta de mai jos. Pe aceasta sunt reprezentate regiunile cu o concentrare mare a populației (peste 200 loc./km²), cele cu o concentrare mijlocie și cele unde populația este foarte rară (sub 1 loc./km²).



Pe baza acestei hărți, a manualului și a atlasului, precizați numele regiunilor reprezentate (A, B, C, D, E), gradul de concentrare a populației fiecărei regiuni și o cauză principală a acestuia.

- A.
- _____
 - _____
 - _____
- B.
- _____
 - _____
 - _____
- C.
- _____
 - _____
 - _____
- D.
- _____
 - _____
 - _____
- E.
- _____
 - _____
 - _____

Densitatea medie a populației Asiei este de 100 loc./km², iar densitatea medie a populației mondiale este de 50 loc./km²; explicați această constatare.

1.8. ORAȘELE

Notați mai jos, pe baza informațiilor din manual, a atlasului și a altor surse de informare, orașe asiatice:

a) existente în Antichitate: _____

b) existente în Evul Mediu: _____

c) cele actuale, cu cel mai mare număr de locuitori (peste 5 mil. loc.): _____

Urmăriți harta alăturată și notați în locurile libere denumirile orașelor care lipsesc.

Numărul de locuitori are un caracter orientativ.



Completați tabelul de mai jos cu numele unor orașe reprezentate pe hartă, conform cerințelor.

| Statul | Populația (loc.) | Orașe | | |
|------------|------------------|--------------------|----------------|---------------|
| | | Peste 10 mil. loc. | 5–10 mil. loc. | 1–5 mil. loc. |
| China | 1 374 300 000 | | | |
| India | 1 311 000 000 | | | |
| Indonezia | 258 000 000 | | | |
| Pakistan | 189 000 000 | | | |
| Bangladesh | 160 000 000 | | | |
| Japonia | 127 000 000 | | | |
| Filipine | 101 000 000 | | | |
| Vietnam | 91 000 000 | | | |
| Iran | 79 000 000 | | | |
| Turcia | 79 000 000 | | | |
| Thailanda | 67 000 000 | | | |

1.9. RESURSELE NATURALE ȘI ECONOMIA

Urmăriți harta din manual sau din atlas și menționați unde sunt localizate principalele resurse ale Asiei, astfel:

- petrol: _____
- cărbuni: _____
- minereuri feroase: _____
- diamante: _____
- uraniu: _____
- staniu: _____

Urmăriți harta alăturată și notați denumirile concentrațiilor industriale care lipsesc.

Precizați denumirile unor concentrații industriale din India și China:

a) India: _____

b) China: _____



Urmăriți harta de mai jos și notați, pe scurt, denumirea regiunilor reprezentate, condițiile naturale și culturile agricole predominante pentru regiunile marcate cu:

1. _____

2. _____

3. _____

4. _____

